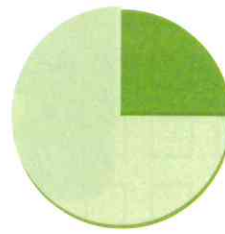
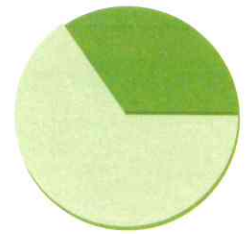


spitzer Winkel

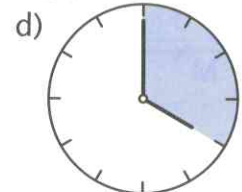
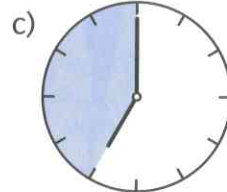
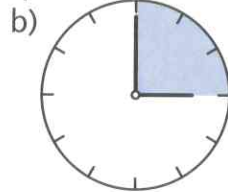
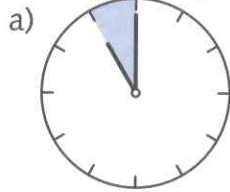


rechter Winkel

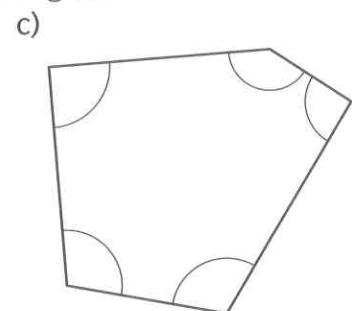
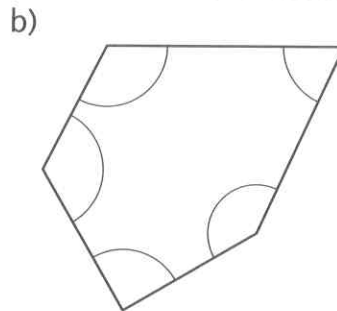
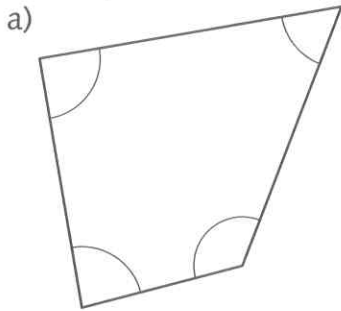


stumpfer Winkel


1. Bilden die Zeiger einen spitzen, einen stumpfen oder einen rechten Winkel?



2. Färbe spitze Winkel rot, stumpfe Winkel blau und rechte Winkel grün.

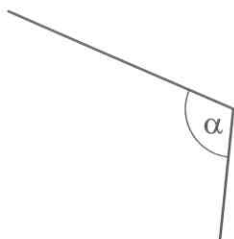


3. Winkel werden mit griechischen Buchstaben bezeichnet:
 α (alpha, sprich: alfa), β (beta), γ (gamma)

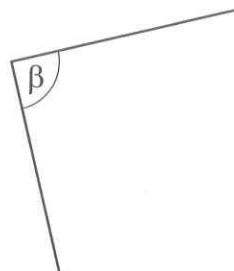


α _____
 β _____
 γ _____

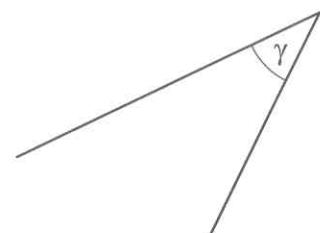
4. Welcher Winkel ist ein spitzer Winkel, welcher ist ein rechter Winkel, welcher ist ein stumpfer Winkel? Trage ein.



spitzer Winkel: _____



stumpfer Winkel: _____



rechter Winkel: _____